

21 से 50 तक की संख्याएँ



0120CH08

खाली स्थान भरिए।



18









संख्या लिखिए

बंडल और इकाइयाँ बनाइए।



दहाई



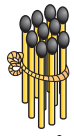
इकाइयाँ

दहाई	इकाइयाँ	14
1	4	


दहाई

इकाइयाँ

दहाई	इकाइयाँ	15
1	5	



दहाई



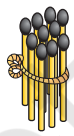
इकाइयाँ

दहाई	इकाइयाँ	


दहाइयाँ

इकाइयाँ

दहाइयाँ	इकाइयाँ	20
2	0	



दहाई



इकाइयाँ

दहाई	इकाइयाँ	

दहाइयाँ

इकाइयाँ

दहाइयाँ	इकाइयाँ	22
2	2	



संख्याएँ लिखिए

दहाइयाँ इकाइयाँ

2 5 25

दहाइयाँ इकाइयाँ

3 3 33

दहाइयाँ इकाइयाँ

2 3

दहाइयाँ इकाइयाँ

4 2

दहाइयाँ इकाइयाँ

दहाइयाँ इकाइयाँ

दहाइयाँ इकाइयाँ

दहाइयाँ इकाइयाँ

दहाइयाँ इकाइयाँ

दहाइयाँ इकाइयाँ





21 से 40 तक की संख्याएँ

खाली स्थान भरिए।



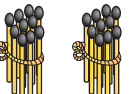

21

2 दहाइयाँ 1 इकाई





31

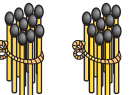

3 दहाइयाँ 1 इकाई



22

2 दहाइयाँ 2 इकाइयाँ

3 दहाइयाँ 2 इकाइयाँ



23

2 दहाइयाँ 3 इकाइयाँ




3 दहाइयाँ 3 इकाइयाँ




2 दहाइयाँ 4 इकाइयाँ




3 दहाइयाँ 4 इकाइयाँ



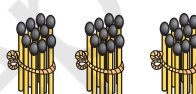

2 दहाइयाँ 5 इकाइयाँ




3 दहाइयाँ 5 इकाइयाँ




2 दहाइयाँ 6 इकाइयाँ



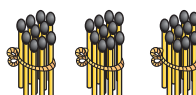

36

3 दहाइयाँ 6 इकाइयाँ



27

2 दहाइयाँ 7 इकाइयाँ

3 दहाइयाँ 7 इकाइयाँ



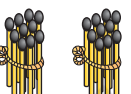

28

2 दहाइयाँ 8 इकाइयाँ



38

3 दहाइयाँ 8 इकाइयाँ





29

2 दहाइयाँ 9 इकाइयाँ

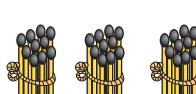



39

3 दहाइयाँ 9 इकाइयाँ



30

2 दहाइयाँ 1 दहाई

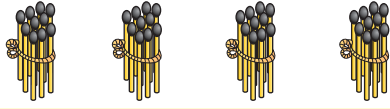


40

3 दहाइयाँ 1 दहाई



41 से 50 तक की संख्याएँ

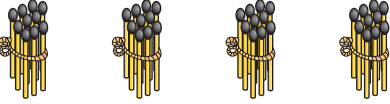
खाली स्थान भरिए।



41

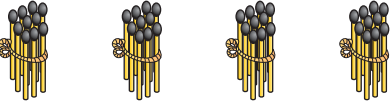
4 दहाइयाँ

1 इकाई



4 दहाइयाँ

2 इकाइयाँ



43

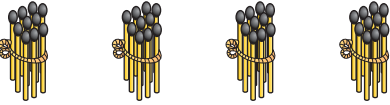
4 दहाइयाँ

3 इकाइयाँ



4 दहाइयाँ

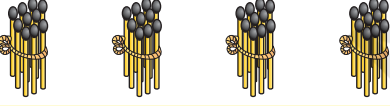
4 इकाइयाँ



45

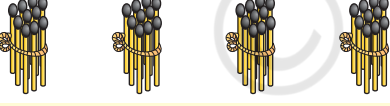
4 दहाइयाँ

5 इकाइयाँ



4 दहाइयाँ

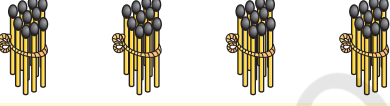
6 इकाइयाँ



47

4 दहाइयाँ

7 इकाइयाँ



48

4 दहाइयाँ

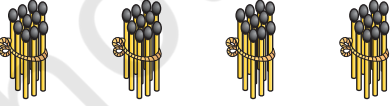
8 इकाइयाँ



49

4 दहाइयाँ

9 इकाइयाँ



50

4 दहाइयाँ

1 दहाई





छूटी हुई संख्याएँ लिखिए

1	2	3	4	5	6	7	8	9	10
11		13			16				
	22					27			
							38		
		43						49	

